

# Математика

## (2 класс)





*Геометрия повсюду.  
Только глазом поведёшь,  
И примеров сразу уйму  
Ты вокруг себя найдёшь!*

# Величина



# Задание №1.

Дайте характеристику числу.



246

246 см

# Задание №2.

< = >

3м 25см \* 24 дм 7см

8м 1см \* 967см

4м 2дм \* 402см



# Задание №2.

< = >

325см

247см

3м 25см

>

24 дм 7см

8м 1см

\*

967см

4м 2дм

\*

402см



# Задание №2.

< = >

325см

247см

3м 25см

>

24 дм 7см

801см

8м 1см

<

967см

4м 2дм

\*

402см



# Задание №2.

< = >

325см

247см

3м 25см

>

24 дм 7см

801см

8м 1см

<

967см

420см

4м 2дм

>

402см





## Задание №3.



Выполните  
задание №7 в  
учебнике на  
стр.65.

# Задание №3.

## Решите задачу.



*От куска ленты длиной 4 м 27 см отрезали 3 м 40 см. На сколько отрезанная часть ленты меньше той, которая осталась?*

# Математическая физминутка.






**Задание №4.**  
**Решите геометрическую задачу.**



*На сколько сантиметров  
сумма длин двух  
диагоналей меньше  
периметра  
прямоугольника?*

**ИТОГ.**



*Спасибо  
за АКТИВНУЮ работу  
на уроке!*

